

사회탐구 영역(경제)

제 4 교시

성명

수험 번호

3

제 [] 선택

1

1. 그림의 (가)에 들어갈 내용으로 가장 적절한 것은?

퀴즈

이 경제 주체는 누구일까요?

힌트 1

민간 경제 주체에 해당한다.


힌트 2

재화 또는 서비스를 생산·판매하여 부가 가치를 창출한다.

힌트 3

(가)

힌트 3을 공개합니다.



- ① 소비 활동의 주체이다.
- ② 생산물 시장의 수요자이다.
- ③ 사회적 후생의 극대화를 추구한다.
- ④ 조세를 부과하여 재정 활동을 수행한다.
- ⑤ 생산 요소를 구입한 대가로 임금, 이자 등을 지불한다.

2. 표는 경제 체제 A, B의 특징을 정리한 것이다. 이에 대한 설명으로 옳은 것은? (단, A와 B는 각각 계획 경제 체제와 시장 경제 체제 중 하나이다.)

구분	A	B
특징	개별 경제 주체의 자유로운 의사 결정으로 경제 문제를 해결한다.	중앙 정부의 명령과 통제에 따라 경제 문제를 해결한다.

- ① A에서는 자원의 희소성에 따른 선택의 문제가 발생하지 않는다.
- ② B에서는 원칙적으로 생산 수단의 사적 소유를 보장한다.
- ③ A보다 B에서 경제적 유인을 강조한다.
- ④ B와 달리 A에서 ‘보이지 않는 손’의 역할을 중시한다.
- ⑤ A와 달리 B에서는 경기 변동이 발생한다.

3. 표는 A 기업의 X재 생산량에 따른 평균 비용과 총수입을 나타낸다. 이에 대한 분석으로 옳은 것은? (단, 생산된 X재는 모두 판매된다.) [3점]

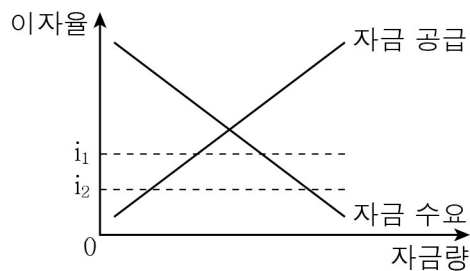
생산량(개)	1	2	3	4	5
평균 비용(만 원)	15	10	7	10	13
총수입(만 원)	15	30	45	60	75

* 평균 비용 = 총비용 / 생산량, 평균 수입 = 총수입 / 생산량

- ① 생산량이 1개일 때 평균 수입은 평균 비용보다 크다.
- ② 생산량이 5개일 때 총수입은 총비용보다 작다.
- ③ 최대로 얻을 수 있는 이윤은 24만 원이다.
- ④ 생산량이 1개씩 증가할 때마다 추가로 얻는 수입은 감소한다.
- ⑤ 생산량이 1개씩 증가할 때마다 추가로 발생하는 비용은 감소한다.

4. 밑줄 친 ㉠으로 인해 갑국의 대부 자금 시장에 나타날 변화에 대한 옳은 분석만을 <보기>에서 고른 것은?

그림은 갑국의 대부 자금 시장을 나타낸다. 현재 갑국 정부는 대부 자금을 i_1 보다 높은 이자율로 거래하지 못하도록 제한하고 있는데, ㉠ 이자율 상한선을 i_2 로 낮추는 정책을 시행하려고 한다.



< 보 기 >

- ㄱ. 자금 수요량은 감소한다.
- ㄴ. 자금 공급량은 증가한다.
- ㄷ. 자금 거래량은 감소한다.
- ㄹ. 자금 시장의 초과 수요는 증가한다.

- ① ㄱ, ㄴ ② ㄱ, ㄷ ③ ㄴ, ㄷ ④ ㄴ, ㄹ ⑤ ㄷ, ㄹ

5. 그림에 나타난 갑, 을의 선택에 대한 옳은 분석만을 <보기>에서 고른 것은? [3점]

갑

이어폰 A
8만 원

나는 A, B 중에서 A를 구매하겠어.

을

이어폰 B
10만 원

나는 A, B 중에서 B를 구매하겠어.

< 보 기 >

- ㄱ. 갑의 A 선택에 따른 명시적 비용은 8만 원이다.
- ㄴ. 을의 B 선택에 따른 암묵적 비용은 기회비용보다 크다.
- ㄷ. 갑의 경우 A 선택에 따른 순편익은 B 선택에 따른 순편익보다 크다.
- ㄹ. 을의 경우 B 선택에 따른 편익에서 A 선택에 따른 편익을 뺀 값은 2만 원보다 작다.

- ① ㄱ, ㄴ ② ㄱ, ㄷ ③ ㄴ, ㄷ ④ ㄴ, ㄹ ⑤ ㄷ, ㄹ

2 (경제)

사회탐구 영역

6. 다음 사례에서 파악할 수 있는 정부 활동의 목적으로 가장 적절한 것은?

농산물 시장 개방 확대로 시장에서 거래되는 농산물의 원산지가 더욱 다양해졌다. 이로 인해 판매자와 달리 원산지를 정확히 파악하기 어려운 소비자는 농산물을 구매할 때 불리한 선택을 하게 될 가능성이 높아졌다. 이러한 현상을 막기 위해 정부는 농산물 원산지 표시제를 도입하여 소비자에게 원산지 정보를 제공하고 있다.

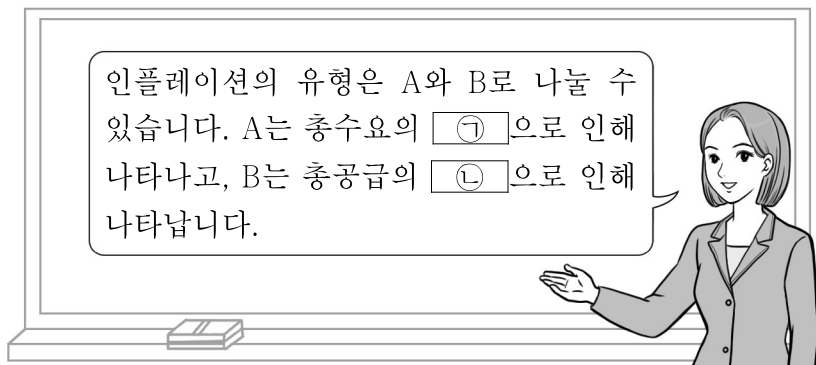
- ① 빈부 격차를 줄인다.
- ② 경기 변동을 조절한다.
- ③ 정보의 비대칭성을 개선한다.
- ④ 부정적 외부 효과를 개선한다.
- ⑤ 공공재 부족 문제를 해결한다.

7. 밑줄 친 ㉠ ~ ㉣에 대한 설명으로 옳은 것은? (단, ㉠ ~ ㉣은 모두 수요 및 공급 법칙을 따른다.) [3점]

- ㉠ 테니스 라켓은 ㉡ 테니스공과 함께 소비할 때 더 큰 만족을 얻을 수 있다. 테니스 라켓의 공급 증감에 따른 가격 변동은 테니스공의 수요에 영향을 주게 된다.
- ㉢ 버블티는 차(茶) 등에 ㉣ 타피오카 펄을 넣어 만든 음료이다. 최근 여러 국가에서 버블티의 인기가 높아지면서 타피오카 펄의 원료인 ㉤ 카사바를 재배하는 국가가 늘어나고 있다.

- ① ㉠은 ㉡과 대체재 관계에 있다.
- ② ㉢은 ㉣과 보완재 관계에 있다.
- ③ ㉠의 공급 감소는 ㉡ 시장의 균형 가격 상승 요인이다.
- ④ ㉢의 수요 증가는 ㉣ 시장의 생산자 잉여 감소 요인이다.
- ⑤ ㉤의 공급 증가는 ㉤ 시장의 총잉여 증가 요인이다.

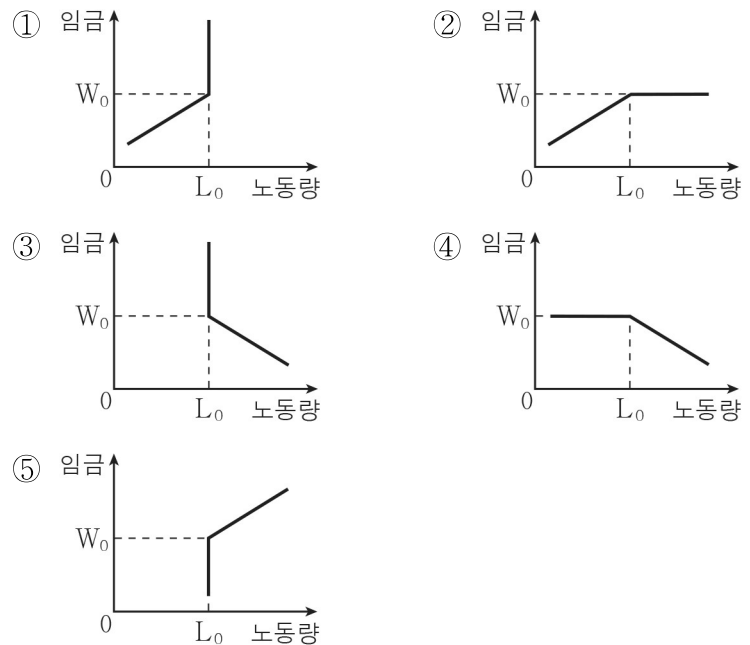
8. 그림은 교사의 수업 장면이다. 이에 대한 설명으로 옳은 것은? [3점]



- ① ㉠에는 '감소', ㉡에는 '증가'가 들어갈 수 있다.
- ② A는 비용 인상 인플레이션이다.
- ③ B의 발생 요인으로 수입 원자재 가격 하락을 들 수 있다.
- ④ B와 달리 A가 나타날 경우 스태그플레이션이 발생할 수 있다.
- ⑤ A와 달리 B가 나타날 경우 실질 GDP는 감소한다.

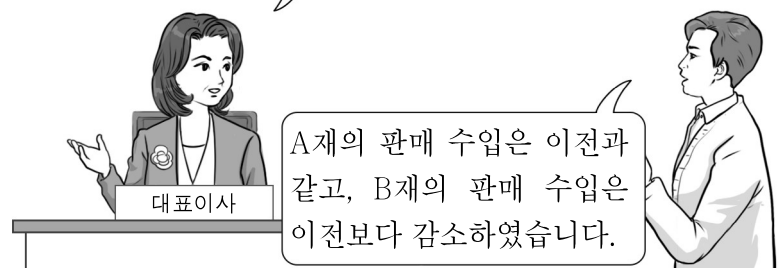
9. 다음 자료를 통해 추론할 수 있는 노동 공급 곡선으로 가장 적절한 것은?

- 임금이 W_0 이하일 때는 공급 법칙을 따른다.
- 임금이 W_0 보다 높을 때는 임금이 상승해도 공급량은 L_0 으로 변함이 없다.



10. 다음 대화에 대한 옳은 분석만을 <보기>에서 고른 것은?

우리 ○○ 회사에서만 판매하는 A재와 B재의 가격 인상 결과가 어떨습니까? 회사의 예상대로 두 재화 모두 판매 수입이 증가하였나요?



< 보 기 >

- ㄱ. A재의 가격과 수요량은 음(-)의 관계에 있다.
- ㄴ. A재 수요는 가격에 대하여 완전 탄력적이다.
- ㄷ. 수요의 가격 탄력성은 A재보다 B재가 크다.
- ㄹ. ○○ 회사는 A재, B재 모두 수요의 가격 탄력성이 1보다 클 것으로 예상하였다.

- ① ㄱ, ㄴ ② ㄱ, ㄷ ③ ㄴ, ㄷ ④ ㄴ, ㄹ ⑤ ㄷ, ㄹ

11. 표는 갑국의 연도별 경제 활동 참가율과 실업률을 나타낸다. 이에 대한 옳은 분석만을 <보기>에서 고른 것은? (단, 갑국의 15세 이상 인구는 변함이 없다.) [3점]

(단위: %)

구분	2017년	2018년	2019년
경제 활동 참가율	70	70	69
실업률	5	4	5

< 보 기 >

- ㄱ. 2019년의 비경제 활동 인구는 2017년보다 감소하였다.
 ㄴ. 2019년의 경제 활동 인구는 2018년보다 감소하였다.
 ㄷ. 2019년의 실업자 수는 2018년보다 감소하였다.
 ㄹ. 2018년의 고용률은 2017년보다 상승하였다.

- ① ㄱ, ㄴ ② ㄱ, ㄷ ③ ㄴ, ㄷ ④ ㄴ, ㄹ ⑤ ㄷ, ㄹ

12. 다음 대화에서 (가), (나)에 들어갈 내용으로 가장 적절한 것은? [3점]



미국 여행 경비로 얼마나 환전할 거야?

300만 원을 달러화로 환전하려고 해.



뉴스에 따르면 지속적으로 (가) 할 것이라고 해. 그럼 원/달러 환율이 (나) 해서 늦게 환전할수록 쓸 수 있는 달러화가 적어질 거야.

- | | (가) | (나) |
|---|------------------------|-----|
| ① | 미국산 상품의 수입이 감소 | 상승 |
| ② | 대미 서비스 수지 흑자가 증가 | 하락 |
| ③ | 국산 상품의 대미 수출이 감소 | 하락 |
| ④ | 우리나라 기업들의 미국 내 투자가 증가 | 상승 |
| ⑤ | 미국 거주자의 우리나라 채권 구입이 증가 | 상승 |

13. 금융 상품 (가), (나)의 일반적인 특징에 대한 설명으로 옳은 것은? (단, (가)와 (나)는 각각 주식과 채권 중 하나이다.)

- (가) 경영 자금을 마련하기 위해 발행하는 증권으로 발행 기관의 소유권 일부를 투자자에게 주는 증표이다.
 (나) 발행 기관이 필요한 자금을 빌리면서 원금과 이자를 언제까지 갚겠다는 것을 표시하여 발행하는 증권이다.

- ① (가)는 만기가 있다.
 ② (나)는 시세 차익을 기대할 수 있다.
 ③ (나)와 달리 (가)는 정부가 발행할 수 있다.
 ④ (나)와 달리 (가)의 발행액은 발행 기관의 부채로 기록된다.
 ⑤ (가), (나)는 모두 이자 수익을 기대할 수 있다.

14. 표는 총수요 및 총공급 변동을 나타낸다. 변동 (가) ~ (라)의 요인으로 가장 적절한 것은?

구분		총공급	
		증가	감소
총수요	증가	(가)	(나)
	감소	(다)	(라)

- | 변동 | 총수요 측 요인 | 총공급 측 요인 |
|-------|----------|--------------|
| ① (가) | 민간 소비 증가 | 생산 기술 향상 |
| ② (나) | 정부 지출 증가 | 생산 요소 가격 하락 |
| ③ (다) | 민간 투자 감소 | 생산 요소 가격 상승 |
| ④ (라) | 정부 지출 감소 | 생산 요소 투입량 증가 |
| ⑤ (라) | 순수출 증가 | 생산 기술 향상 |

15. 다음 자료에 대한 분석으로 옳은 것은? [3점]

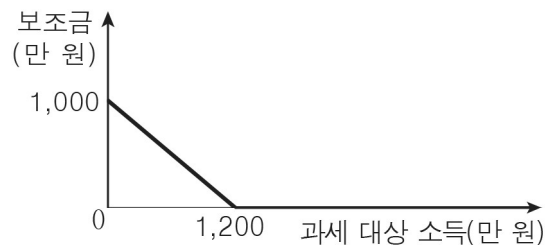
현재 갑국은 모든 과세 대상 소득에 대해 일률적으로 10%의 세율을 적용하고 있다. 최근 갑국은 소득세제 개편안 (가)와 보조금 지급안 (나)를 고려하여 다음 1안 ~ 3안 중 하나를 시행하고자 한다. 단, '처분 가능 소득 = 과세 대상 소득 - 소득세액 + 보조금'이다.

- 1안: 현행 소득세제를 (가)로 개편함.
- 2안: 현행 소득세제를 유지하고 (나)를 도입함.
- 3안: 현행 소득세제를 (가)로 개편하고 (나)를 도입함.

(가) 표는 과세 대상 소득 구간별 적용 세율을 나타낸다. 예를 들어, 과세 대상 소득이 2,000만 원일 경우 1,200만 원에 대해서는 5%의 세율을 적용하고, 1,200만 원을 초과하는 800만 원에 대해서는 10%의 세율을 적용한다.

과세 대상 소득	적용 세율(%)
1,200만 원 이하	5
1,200만 원 초과 3,600만 원 이하	10
3,600만 원 초과	20

(나) 그림은 과세 대상 소득에 따른 보조금을 나타낸다. 과세 대상 소득이 1,200만 원 미만일 경우 보조금을 지급하며, 보조금에 대해서는 과세하지 않는다.



- ① 현행 소득세제에서 과세 대상 소득 증가율보다 소득세액 증가율이 높다.
 ② 1안에서 과세 대상 소득이 4,600만 원일 경우 처분 가능 소득은 현행 소득세제보다 많다.
 ③ 2안에서 과세 대상 소득이 1,200만 원 미만일 경우 처분 가능 소득은 1,000만 원 이상이다.
 ④ 3안에서 과세 대상 소득이 600만 원일 경우 처분 가능 소득은 2안보다 적다.
 ⑤ 소득 재분배 효과는 3안보다 1안에서 크다.

4 (경제)

사회탐구 영역

16. 밑줄 친 ㉠, ㉡에 대한 설명으로 옳은 것은? (단, 갑국의 경기 침체는 총수요의 변동에 의해 나타났다.)

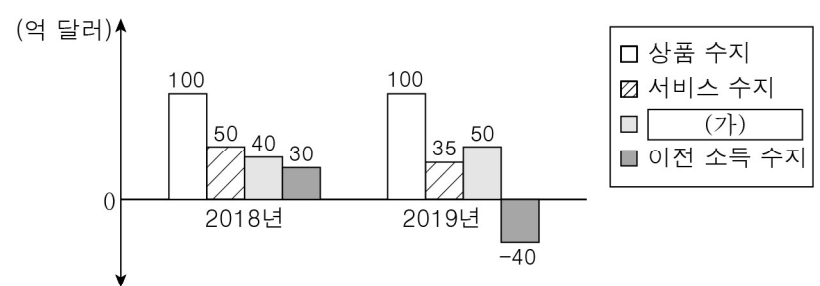
◇◇ 신문

□□□□년 □□월 □□일

지난달 갑국의 ○○ 경제 연구소는 보고서를 통해 갑국의 경기 침체가 심화될 것이라는 전망을 내놓았다. 이와 인식을 같이하고 있는 갑국 정부는 ㉠ 경기 침체를 극복할 수 있는 재정 정책을 시행하기로 결정하였다. 갑국 중앙은행 또한 ㉡ 경기를 활성화할 수 있는 통화 정책을 실시할 예정이다.

- ① ㉠의 실시는 물가를 하락시키는 요인이다.
- ② ㉡의 실시는 실질 GDP를 감소시키는 요인이다.
- ③ ㉠의 수단으로 소득세율 인하를 들 수 있다.
- ④ ㉡의 수단으로 국공채 매각을 들 수 있다.
- ⑤ ㉠, ㉡은 모두 긴축 정책에 해당한다.

17. 그림은 갑국의 연도별 경상 수지를 나타낸다. 이에 대한 분석으로 옳은 것은? [3점]



- ① 갑국 거주자의 해외 주식 투자금은 (가)에 반영된다.
- ② 2018년 경상 수지는 외환 보유액 증가 요인이다.
- ③ 경상 거래 규모는 2019년보다 2018년이 크다.
- ④ 상품 수출을 통한 수취액은 2018년과 2019년이 같다.
- ⑤ 여행 수지가 포함되는 경상 수지 항목은 2018년에 비해 2019년에 개선되었다.

18. 다음 자료에 대한 분석으로 옳은 것은? [3점]

표는 X재와 Y재만을 최종 재화로 생산하는 갑국의 연도별 생산량과 가격을 나타낸다. 단, 기준 연도는 2017년이며 물가 수준은 GDP 디플레이터로 측정한다.

구분		2017년	2018년	2019년
X재	생산량(개)	100	120	80
	가격(달러)	100	100	95
Y재	생산량(개)	200	180	220
	가격(달러)	100	110	105

- ① 2017년의 명목 GDP는 실질 GDP보다 크다.
- ② 2018년의 명목 GDP는 실질 GDP보다 작다.
- ③ 2017년과 2018년의 실질 GDP는 같다.
- ④ 2018년보다 2019년의 물가 수준이 높다.
- ⑤ 2019년보다 2018년의 경제 성장률이 높다.

19. 다음은 갑의 가계 수입과 지출을 나타낸다. 이에 대한 분석으로 옳은 것은?

수입		지출	
항목	금액	항목	금액
월급	270만 원	통신비	15만 원
주식 배당금	30만 원	교육비	100만 원
자녀 돌 축하금	40만 원	식료품비	150만 원
		세금	25만 원
		사회 보험료	50만 원

- ① 이전 소득은 40만 원이다.
- ② 경상 소득은 340만 원이다.
- ③ 비소비 지출은 90만 원이다.
- ④ 근로 소득보다 소비 지출이 많다.
- ⑤ 경상 소득 중 재산 소득의 비율은 10%이다.

20. 다음 자료에 대한 분석으로 옳은 것은? [3점]

X재와 Y재만을 생산하여 자급자족하던 갑국과 을국은 각각 비교 우위가 있는 재화만을 생산하여 양국 모두 이익이 되는 범위에서 교환하기로 하였다. 표는 교역 이후 갑국과 을국의 X재 및 Y재의 생산량과 소비량을 나타낸다. 단, 갑국과 을국은 모두 생산 가능 곡선상에서 생산하며, 양국의 생산 가능 곡선은 직선이다.

(단위: 개)

구분	생산량		소비량	
	X재	Y재	X재	Y재
갑국	100	0	40	60
을국	0	100	60	40

- ① 갑국의 Y재 최대 생산 가능량은 100개보다 많다.
- ② 교역 이전 을국은 X재 50개와 Y재 50개를 동시에 소비할 수 있다.
- ③ X재 1개 생산의 기회비용은 갑국이 을국보다 크다.
- ④ 갑국과 을국은 X재와 Y재를 1 : 1의 비율로 교환하였다.
- ⑤ 교역 이후 갑국에서 X재 1개 소비의 기회비용은 감소하였다.

※ 확인 사항
답안지의 해당란에 필요한 내용을 정확히 기입(표기)했는지 확인하십시오.